



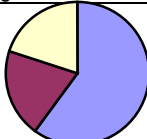
Semua data jawaban anda dijamin kerahasiaannya.

1

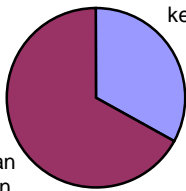
STATUS KESEHATAN		
10.	<p>Ratna dapat membaca surat kabar (dan juga memasukkan benang kelubang jarum dengan mudah). Dia juga dapat mengenali wajah seseorang dan menjelaskan foto dari jarak 10 meter. Dia juga tidak mempunyai masalah bila melihat dalam cahaya remang-remang. Bagaimana penilaian anda tentang kesulitannya dalam melihat dan mengenali seseorang yang dia kenal di seberang jalan?</p> <ol style="list-style-type: none"> 1. Tidak ada masalah 2. Sedikit bermasalah 3. Agak bermasalah 4. Bermasalah 5. Sangat bermasalah 	<input type="checkbox"/>
11.	<p>Ucok dapat menggerakkan tangan dan kaki, tetapi memerlukan bantuan jika akan berdiri dari keadaan duduk dikursi atau berjalan mengelilingi rumah. Akan terasa sakit apabila membengkokkan sesuatu dan tidak mungkin dapat mengangkat sesuatu barang. Bagaimana penilaian anda tentang kesulitannya dalam bergerak?</p> <ol style="list-style-type: none"> 1. Tidak ada masalah 2. Sedikit bermasalah 3. Agak bermasalah 4. Bermasalah 5. Sangat bermasalah 	<input type="checkbox"/>
12.	<p>Anton dapat membaca surat kabar (dan juga memasukkan benang kelubang jarum dengan mudah). Dia dapat mengenali bentuk dan warna dari jarak 10 meter tetapi tidak dapat menjelaskannya dengan rinci. Dia tidak mempunyai masalah bila melihat dalam cahaya remang-remang. Bagaimana penilaian anda tentang kesulitannya dalam melihat dan mengenali seseorang yang dia kenal di seberang jalan?</p> <ol style="list-style-type: none"> 1. Tidak ada masalah 2. Sedikit bermasalah 3. Agak bermasalah 4. Bermasalah 5. Sangat bermasalah 	<input type="checkbox"/>
13.	<p>Maria tidak mempunyai masalah dalam bergerak atau menggunakan tangannya, lengannya dan kakinya. Dia dapat berolah raga jalan kaki sepanjang 4 kilometer dua kali dalam 1 minggu tanpa ada masalah. Bagaimana penilaian anda tentang kesulitannya dalam bergerak?</p> <ol style="list-style-type: none"> 1. Tidak ada masalah 2. Sedikit bermasalah 3. Agak bermasalah 4. Bermasalah 5. Sangat bermasalah 	<input type="checkbox"/>
14.	<p>Robi dapat berjalan jauh sampai 200 meter tanpa masalah tetapi rasa sesak nafas timbul sesudah berjalan 1 kilometer atau menaiki tangga satu lantai. Dia tidak mempunyai masalah dengan aktifitas fisik sehari-hari seperti membawa belanjaan makanan dari pasar. Bagaimana penilaian anda tentang kesulitannya dalam bergerak?</p> <ol style="list-style-type: none"> 1. Tidak ada masalah 2. Sedikit bermasalah 3. Agak bermasalah 4. Bermasalah 5. Sangat bermasalah 	<input type="checkbox"/>
15.	<p>Tono dapat membaca surat kabar dan juga memasukkan benang kelubang jarum dengan mudah. Dia juga dapat mengenali wajah seseorang dan menjelaskan foto dari jarak 10 meter. Dia juga tidak mempunyai masalah bila melihat dalam cahaya remang-remang. Tetapi dia tidak dapat membedakan warna merah dan hijau. Bagaimana penilaian anda tentang kesulitannya dalam melihat dan mengenali seseorang yang dia kenal di seberang jalan?</p> <ol style="list-style-type: none"> 1. Tidak ada masalah 2. Sedikit bermasalah 3. Agak bermasalah 4. Bermasalah 5. Sangat bermasalah 	<input type="checkbox"/>
16.	<p>Rahmat adalah seorang atlet aktif yang berlari sepanjang dua puluh kilometer dua kali dalam seminggu dan bermain sepak bola tanpa masalah. Bagaimana penilaian anda tentang kesulitannya dalam bergerak?</p> <ol style="list-style-type: none"> 1. Tidak ada masalah 2. Sedikit bermasalah 3. Agak bermasalah 4. Bermasalah 5. Sangat bermasalah 	<input type="checkbox"/>

17.	Hadi dapat membaca surat kabar dan juga memasukkan benang kelubang jarum dengan mudah. Dia juga dapat mengenali wajah seseorang dan menjelaskan foto dari jarak 10 meter. Dia mempunyai masalah bila melihat dalam cahaya remang-remang. Bagaimana penilaian anda tentang kesulitannya dalam melihat dan mengenali seseorang yang dia kenal di seberang jalan? 1. Tidak ada masalah 2. Sedikit bermasalah 3. Agak bermasalah 4. Bermasalah 5. Sangat bermasalah	<input type="checkbox"/>		dalam melihat dan mengenali seseorang yang dia kenal di seberang jalan? 1. Tidak ada masalah 2. Sedikit bermasalah 3. Agak bermasalah 4. Bermasalah 5. Sangat bermasalah	<input type="checkbox"/>
18.	Ani memerlukan kacamata untuk membaca surat kabar dan juga memasukkan benang kelubang jarum. Tetapi dia dapat mengenali wajah seseorang dan menjelaskan foto dari jarak 10 meter. Dia tidak mempunyai masalah bila melihat dalam cahaya remang-remang. Bagaimana penilaian anda tentang kesulitannya dalam melihat dan mengenali seseorang yang dia kenal di seberang jalan? 1. Tidak ada masalah 2. Sedikit bermasalah 3. Agak bermasalah 4. Bermasalah 5. Sangat bermasalah	<input type="checkbox"/>	21.	Joni merasa sakit dada dan merasa sesak nafas apabila setelah berjalan sejauh lebih dari 200 meter, tetapi dia dapat bekerja tanpa bantuan orang lain. Bia membengkokkan sesuatu dan mengangkat benda seperti bahan makanan (groceries) akan menimbulkan rasa sakit. Bagaimana penilaian anda tentang kesulitannya dalam bergerak? 1. Tidak ada masalah 2. Sedikit bermasalah 3. Agak bermasalah 4. Bermasalah 5. Sangat bermasalah	<input type="checkbox"/>
19.	Daud mengalami kelumpuhan dari leher ke bawah. Dia harus berbaring di tempat tidur dan makan serta mandi harus dibantu oleh orang lain. Bagaimana penilaian anda tentang kesulitannya dalam bergerak? 1. Tidak ada masalah 2. Sedikit bermasalah 3. Agak bermasalah 4. Bermasalah 5. Sangat bermasalah	<input type="checkbox"/>	22.	Norman dapat membaca surat kabar dan juga memasukkan benang kelubang jarum dengan mudah. Dia tidak dapat mengenali wajah seseorang dari jarak 10 meter di seberang jalan nampak kabur. Dia tidak mempunyai masalah bila melihat dalam cahaya remang-remang. Bagaimana penilaian anda tentang kesulitannya dalam melihat dan mengenali seseorang yang dia kenal di seberang jalan? 1. Tidak ada masalah 2. Sedikit bermasalah 3. Agak bermasalah 4. Bermasalah 5. Sangat bermasalah	<input type="checkbox"/>
20.	Andi tidak dapat membaca surat kabar dan juga memasukkan benang kelubang jarum dengan mudah. Dia juga tidak dapat mengenali wajah seseorang dari beberapa meter di seberang jalan tetapi dapat menjelaskan wajah dari dekat. Dia mempunyai masalah bila melihat dalam cahaya remang-remang. Bagaimana penilaian anda tentang kesulitannya		23.	Sabastian tidak dapat melihat sesuatu yang bergerak dari jarak dekat walaupun dalam keadaan terang. Bagaimana penilaian anda tentang kesulitannya dalam melihat dan mengenali seseorang yang dia kenal di seberang jalan? 1. Tidak ada masalah 2. Sedikit bermasalah 3. Agak bermasalah 4. Bermasalah 5. Sangat bermasalah	<input type="checkbox"/>

DATA TENTANG RESPONDEN		
24.	Berapa usia anda ? tahun	<input type="text"/>
25.	Apakah anda pria atau wanita ? 1. Pria 2. Wanita	<input type="checkbox"/>
26.	Apakah anda lahir di Indonesia ? 1. Ya 2. Tidak 3. Tidak tahu	<input type="checkbox"/>
27.	Apakah kedua orang tua anda lahir di Indonesia ? 1. Ya 2. Tidak 3. Tidak tahu	<input type="checkbox"/>
28.	Apakah tingkat pendidikan anda yang tertinggi ? 1. Dibawah sekolah dasar 2. Sekolah dasar 3. SLTP 4. SLTA atau setingkat 5. Akademi atau Perguruan Tinggi	<input type="checkbox"/>
29.	Berapakah pendapatan anda rata-rata sebulan ? 1. < Rp 300.000,- 2. Rp 301.000 – Rp 400.000 3. Rp 401.000 – Rp 550.000 4. Rp 551.000 – Rp 750.000 5. Rp 750.000,- 6. tidak tahu	<input type="checkbox"/>
30.	Dibawah ini tertera beberapa jenis sarana pelayanan kesehatan. Dalam 30 hari terakhir ini berapakah anda mengunjungi ke sarana pelayanan kesehatan tersebut ?	<div> <div>1.</div> <div>2.</div> <div>3.</div> <div>4.</div> <div>5.</div> <div>6.</div> <div>7.</div> <div>8.</div> <div>9.</div> <div>10.</div> <div>11.</div> <div>12.</div> </div> <div> <div>1. Dokter umum kali</div> <div>2. Dokter gigi kali</div> <div>3. Dokter spesialis kali</div> <div>4. Fisioterapi kali</div> <div>5. Pengobat tradisional kali</div> <div>6. Klinik (petugas kesehatan : perawat, tetapi terpisah dari kegiatan RS) kali</div> <div>7. Unit RS yang melayani rawat jalan kali</div> <div>8. Unit RS rawat inap kali</div> <div>9. Apotik kali</div> <div>10. Pelayanan kesehatan di rumah kali</div> <div>11. Lain-lain, sebutkan kali</div> <div>12. Tidak tahu</div> </div>
31.	Apakah jasa pemeriksaan Saudara oleh dokter atau petugas kesehatan lain ditanggung oleh asuransi kesehatan pemerintah/swasta ? 1. Ya 2. tidak 3. Tidak tahu	<input type="checkbox"/>
32.	Apakah jasa perawatan Saudara di RS ditanggung oleh suatu asuransi kesehatan pemerintah/swasta ? 1. Ya 2. tidak 3. Tidak tahu	<input type="checkbox"/>
HAL-HAL PENTING YANG BERHUBUNGAN DENGAN TUJUAN SISTEM KESEHATAN		

<p>Untuk menjawab pertanyaan-pertanyaan berikut ini, perlu dikemukakan terlebih dahulu tentang tujuan sistem kesehatan, sebagai berikut :</p> <ol style="list-style-type: none"> 1. Meningkatkan kesehatan masyarakat (baik dalam derajat kesehatan maupun dalam pemerataan pelayanan kesehatan) 2. Meningkatkan tanggapan masyarakat tentang sistim kesehatan (baik dalam derajat kesehatan maupun dalam pemerataan pelayanan kesehatan) 3. Keikutsertaan dalam menyumbang dana kesehatan <p>Berikut ini adalah uraian dari tujuan di atas:</p> <ol style="list-style-type: none"> 1. Meningkatkan kesehatan masyarakat <ul style="list-style-type: none"> • Memperpanjang umur harapan hidup masyarakat • Menurunkan angka kesakitan masyarakat • Meningkatkan pemerataan perpanjangan umur harapan hidup dan kualitas hidup serta memeratakan penurunan angka kesakitan 2. Meningkatkan tanggapan masyarakat tentang sistim kesehatan <ul style="list-style-type: none"> • Sistim kesehatan peduli terhadap hak asasi manusia, kebebasan, kerahasiaan dan komunikasi yang jelas. • Sistim kesehatan melengkapi sarana-sarana dasar secara tepat waktu, mengizinkan adanya dukungan sosial yang kuat dan memberikan kebebasan masyarakat untuk memilih petugas kesehatan. • Sistim kesehatan melayani seluruh masyarakat secara merata terhadap tujuan-tujuan diatas. 3. Keikutsertaan dalam menyumbang dana kesehatan <ul style="list-style-type: none"> • Setiap rumah tangga harus membayar sumbangan yang wajar untuk sistim kesehatan • Dalam hal ini berarti bahwa biaya pelayanan kesehatan seseorang ditanggung bersama; dengan demikian masyarakat yang mampu mensubsidi masyarakat yang tidak mampu. 	
PERKIRAAN DERAJAT KEPENTINGAN TUJUAN SISTIM KESEHATAN	
<p>33. Pilih gambar lingkaran-lingkaran dibawah ini yang sangat mendekati dan memperlihatkan besaran kepentingan ketiga tujuan sistim kesehatan menurut anda atau gambarkanlah sendiri lingkaran (h) dengan besaran kepentingan ketiga tujuan diatas sesuai dengan pendapat anda.</p> <p>a)</p> <div data-bbox="267 1738 665 1923"> <div>Keikutsertaan menyumbang dana kesehatan 33%</div> <div>Meningkatkan kesehatan masyarakat 34%</div>  </div>	<div data-bbox="893 237 1317 531"> <div>Meningkatkan tanggapan masyarakat thd sistim kesehatan 33%</div> <div>b) Keikutsertaan menyumbang dana kesehatan 30%</div> <div>Meningkatkan kesehatan masyarakat 40%</div> </div> <div data-bbox="893 583 1317 877"> <div>Meningkatkan tanggapan masyarakat thd sistim kesehatan 30%</div> <div>c) Keikutsertaan menyumbang dana kesehatan 25%</div> <div>Meningkatkan kesehatan masyarakat 50%</div> </div> <div data-bbox="893 930 1317 1224"> <div>Meningkatkan tanggapan masyarakat thd sistim kesehatan 25%</div> <div>d) Keikutsertaan menyumbang dana kesehatan 20%</div> <div>Meningkatkan kesehatan masyarakat 50%</div> </div> <div data-bbox="893 1276 1317 1570"> <div>Meningkatkan tanggapan masyarakat thd sistim kesehatan 30%</div> <div>e) Keikutsertaan Menyumbang dana kesehatan 30%</div> <div>Meningkatkan kesehatan masyarakat 50%</div>  </div> <div data-bbox="893 1633 1317 1906"> <div>Meningkatkan tanggapan masyarakat thd sistim kesehatan 20%</div> <div>f) Keikutsertaan menyumbang</div>  </div>

	<div><div><div><div><div></div><div>dana kesehatan 20%</div></div><div><div></div><div>Meningkatkan kesehatan masyarakat 60%</div></div></div><div><div></div><div>Meningkatkan tanggapan masyarakat thd sistim kesehatan 20%</div></div></div><div>g)<div><div></div><div>Keikutsertaan menyumbang dana kesehatan 33%</div></div><div><div></div><div>Meningkatkan tanggapan masyarakat thd sistim kesehatan Meningkatkan 33% kesehatan masyarakat 34%</div></div></div><div>h) Lainnya</div></div>			<div>anda.</div> <div>a)<div><div></div><div>Peningkatan pemerataan 25%</div></div><div><div></div><div>Peningkatan derajat kesehatan 75%</div></div></div> <div>b)<div><div></div><div>Peningkatan pemerataan 33%</div></div><div><div></div><div>Peningkatan derajat kesehatan 67%</div></div></div> <div>c)<div><div></div><div>Peningkatan pemerataan 50%</div></div><div><div></div><div>Peningkatan derajat kesehatan 50%</div></div></div> <div>d)<div><div><div></div><div></div><div></div></div><div><div></div><div>Peningkatan derajat kesehatan 33%</div></div><div><div></div><div>Peningkatan pemerataan 67%</div></div></div></div>	
KESEHATAN MASYARAKAT: PENINGKATAN DERAJAT KESEHATAN MASYARAKAT DIBANDING PENINGKATAN PEMERATAAN KESEHATAN MASYARAKAT					
34.	<div><div><div><div><div></div><div>Pilih gambar lingkaran-lingkaran dibawah ini yang sangat mendekati dan memperlihatkan besaran kepentingan tujuan sistim kesehatan dalam perbaikan derajat kesehatan masyarakat dibandingkan dengan peningkatan pemerataan kesehatan masyarakat menurut anda atau gambarkanlah sendiri lingkaran (f) dengan besaran kepentingan kedua tujuan diatas sesuai dengan pendapat</div></div></div></div></div>				

	<div>e)</div> <div>Peningkatan derajat kesehatan 25%</div> <div>Peningkatan pemerataan 75%</div> <div>f)</div> <div>Gambarlah lingkaran diatas. Tulis besar pembagian lingkaran berdasarkan besar kepentingan tujuan sistim kesehatan menurut anda, jumlah kedua besaran tersebut harus mencapai 100.</div>		<div>kepedulian kesehatan diatas sesuai dengan pendapat anda.</div> <div>a)</div> <div>Peningkatan pemerataan 25%</div> <div>Peningkatan derajat kesehatan 75%</div> <div>b)</div> <div>Peningkatan pemerataan 33%</div> <div>Peningkatan derajat kesehatan 67%</div> <div>c)</div> <div>Peningkatan pemerataan 50%</div> <div>Peningkatan derajat kesehatan 50%</div> <div>d)</div> <div><div>Peningkatan pemerataan 67%</div><div>Peningkatan derajat kesehatan 33%</div></div>	
TANGGAPAN MASYARAKAT TERHADAP KESEHATAN: PENINGKATAN DERAJAT KESEHATAN DIBANDING PENINGKATAN PEMERATAAN KESEHATAN MASYARAKAT.				
35.	Pilih gambar lingkaran-lingkaran dibawah ini yang sangat mendekati dan memperlihatkan besaran kepentingan tanggapan masyarakat terhadap kesehatan dalam perbaikan tingkat derajat kesehatan dibandingkan dengan perbaikan pemerataan kesehatan menurut anda atau gambarkanlah sendiri lingkaran (f) dengan besaran kepentingan kedua			

	<p>e)</p> <p>Peningkatan derajat kesehatan 25%</p> <p>Peningkatan pemerataan 75%</p> <p>f)</p> <p>Gambarlah lingkaran diatas. Tulis besar pembagian lingkaran berdasarkan besar kepentingan tujuan sistim kesehatan menurut anda, jumlah kedua besaran tersebut harus mencapai 100.</p>			